
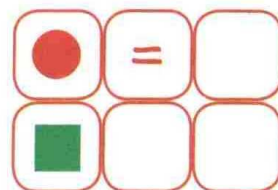




zabawy logiczne

Popatrz na dwa zestawy figur ułożonych według pewnej zasady. Zastanów się, a na pewno z łatwością dorysujesz w pustych kwadracikach odpowiednie figury, tak by ta zasada była zachowana.



2

zabawy matematyczne

Rozwiąż równania i połącz wyniki lewej kolumny z wynikami prawej. Następnie przepisz litery z prawej kolumny do pustych kraterek pamiętając o tym, by znalazły się pod literkami, którym odpowiadają te same wyniki w lewej kolumnie.

B $4+2=$

© $5+3=$

© $6-4=$

I $2+3=$

A $6-5=$

N $7-4=$

Z $1+1=$

E $9-4=$

C $8-7=$

H $8-5=$

O $12:2=$

R $6+2=$

B © C I A N



3