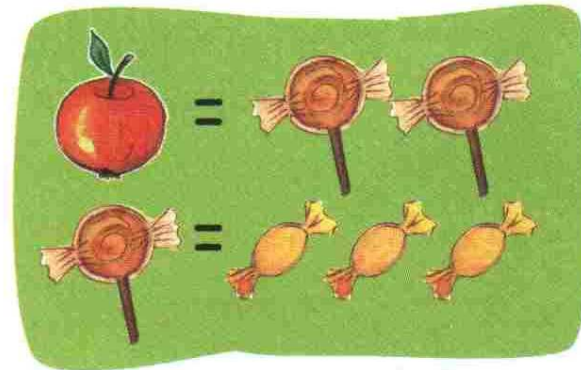



zabawa matematyczna

Patrząc na rysunek obok, postaraj się odpowiedzieć na następujące pytania:


- A** Ile całych jabłek może otrzymać Zosia za swoje słodycze?
- B** Ile cukierków może dostać Basia za oba jabłka?
- C** Gdyby dziewczynki zamieniły się swoimi słodyczami i owocami, która z nich zyskałaby na tej zamianie?



Zosia



Basia



A

B

C